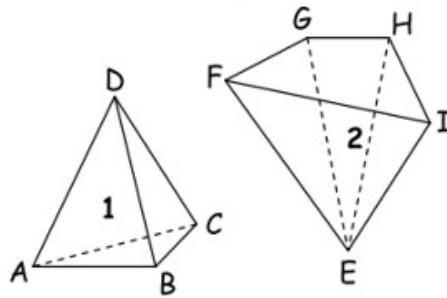


**Exercices : pyramides et représentation en perspective**

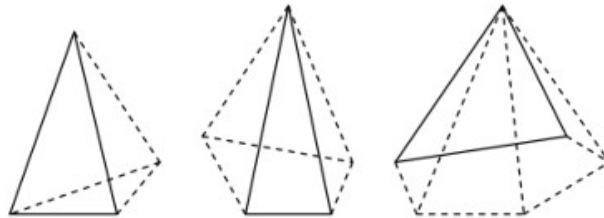
**Exercice 1**

	Pyramide 1	Pyramide 2
Nom de la pyramide		
Nom de la base		
Nom du sommet		
Nombre de faces latérales		



**Exercice 2**

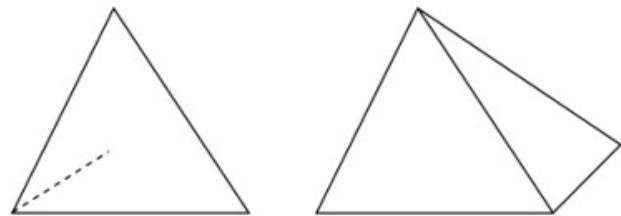
Compléter les dessins en repassant en trait continu les arêtes visibles pour obtenir une **perspective**.  
 Attention, il ne faut pas repasser TOUS les traits !!!



**Exercice 3**

Compléter chaque dessin pour obtenir la représentation en perspective ...

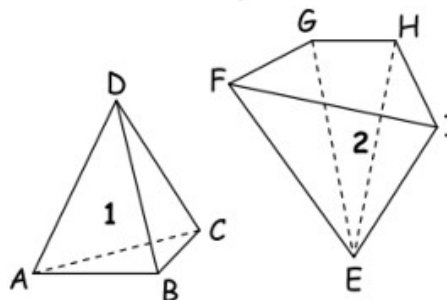
- 1) d'une pyramide à base triangulaire ;
- 2) d'une pyramide à base rectangulaire.



**Exercices : pyramides et représentation en perspective**

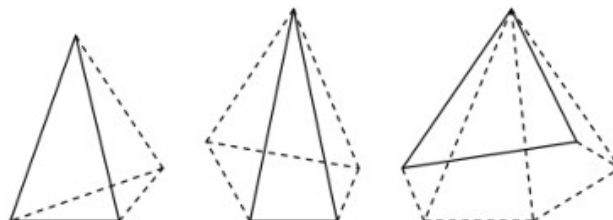
**Exercice 1**

	Pyramide 1	Pyramide 2
Nom de la pyramide		
Nom de la base		
Nom du sommet		
Nombre de faces latérales		



**Exercice 2**

Compléter les dessins en repassant en trait continu les arêtes visibles pour obtenir une **perspective**.  
 Attention, il ne faut pas repasser TOUS les traits !!!



**Exercice 3**

Compléter chaque dessin pour obtenir la représentation en perspective ...

- 1) d'une pyramide à base triangulaire ;
- 2) d'une pyramide à base rectangulaire.

