

Fiche ex médiatrice et hauteur 5e

Activité 1 :

- 1/Trace le segment [AB] en bleu
- 2/Fais une croix en rouge sur les points qui sont à égale distance de A et de B.
- 3/Relie les points rouges en rouge.


Quels sont les caractéristiques de cette droite rouge ?

.....

.....

.....

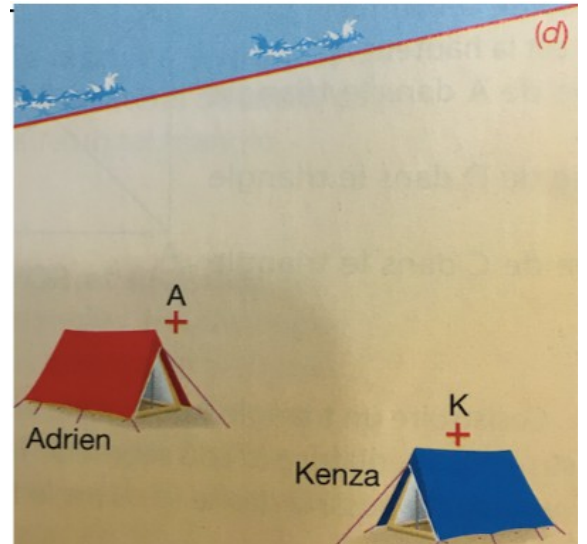
.....



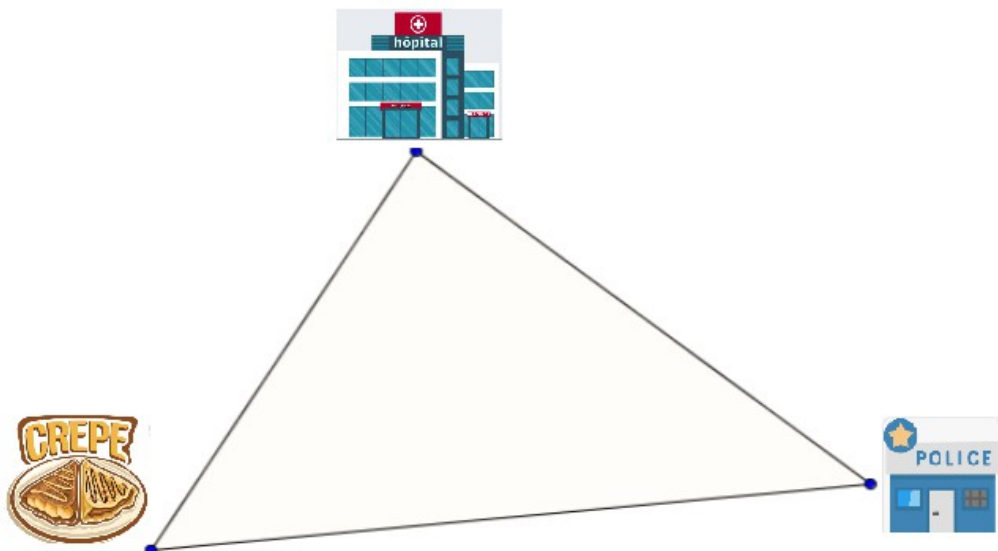
Ex 1 :

- Ayaz et Kenza se trouvent au point A et K sur la plage. Ils donnent rendez vous à leur ami Louis au point L.
- L doit être à la limite de l'eau et de la plage (droite d)
 - L doit être à la même distance de ses deux amis.

Place Louis sur le dessin, en laissant apparents tes traits



Ex 2 : Trois amis veulent se donner rdv pour leur pause déjeuner. Chris travaille dans une crêperie, Hector dans un hôpital et Paul à la police. Trouver le point de rdv qui doit être à égale distance des trois amis



Fiche ex médiatrice et hauteur 5e

Activité 1 :

- 1/Trace le segment [AB] en bleu
- 2/Fais une croix en rouge sur les points qui sont à égale distance de A et de B.
- 3/Relie les points rouges en rouge.


Quels sont les caractéristiques de cette droite rouge ?

.....

.....

.....

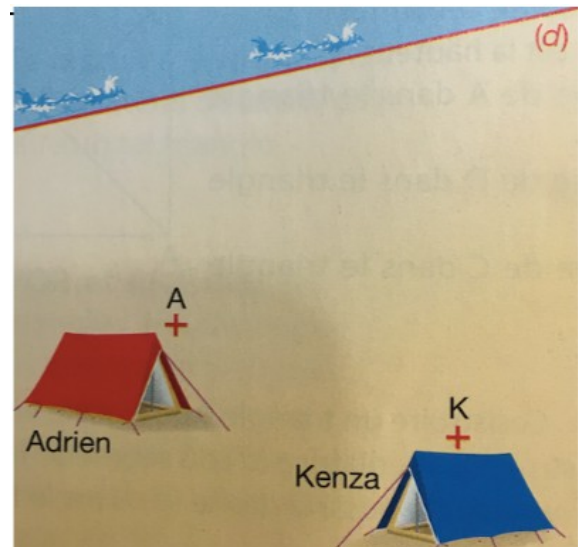
.....



Ex 1 :

- Ayaz et Kenza se trouvent au point A et K sur la plage. Ils donnent rendez vous à leur ami Louis au point L.
- L doit être à la limite de l'eau et de la plage (droite d)
 - L doit être à la même distance de ses deux amis.

Place Louis sur le dessin, en laissant apparents tes traits



Ex 2 : Trois amis veulent se donner rdv pour leur pause déjeuner. Chris travaille dans une crêperie, Hector dans un hôpital et Paul à la police. Trouver le point de rdv qui doit être à égale distance des trois amis

